

Сурагчийн нэр:

Эхэлсэн: он сар өдөр



Сургуулийнхаа эргэн тойронд байдаг зүйлсийг хэр ажигласан бэ? Ямар ямар албан газрууд сургуулийн орчинд байна вэ? Машины зам болон зогсоол, биеийн тамирын талбай сургуулийн аль зүгт байна вэ? Сургуулийн эргэн тойронд байгаа зүйлсийг план зурагт хэрхэн дүрсэлбэл зохих вэ? Эргэцүүлэн бодоорой.

Даалгавар

1 Дараах сургуулийн хашааны план зургийг ажиглаад таних тэмдгүүдийг зөв харгалзуулаарай.



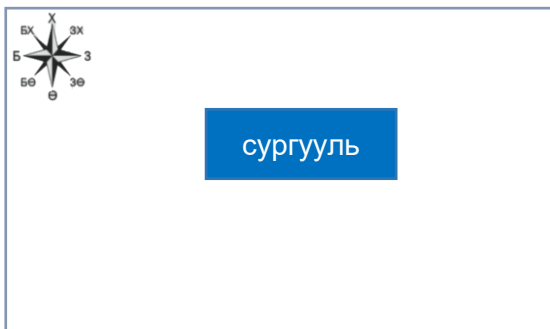
	<input type="radio"/>	← сагсны талбай
	<input type="radio"/>	← хөл бөмбөгийн талбай
	<input type="radio"/>	← сургуулийн хашаа
	<input type="radio"/>	← мод
	<input type="radio"/>	← автомашины зогсоол
	<input type="radio"/>	← зам
	<input type="radio"/>	← сургууль

2 Сургуулийн ойр орчмын план зургийг ажиглаад дараах асуултын зөв хариултыг дугуйлаарай.



- Цөөрөм сургуулийн аль зүгт байна вэ?
А. Зүүн Б. Зүүн өмнө В. Баруун Г. Урд
- Эмнэлэг сургуулийн аль зүгт байна вэ?
А. Баруун өмнө Б. Хойно В. Зүүн Г. Баруун
- Сургуулийн хойд талд юу байна вэ?
А. Цөөрөм Б. Цэцэрлэгт хүрээлэн
В. Дэлгүүр Г. Цэцэрлэг
- Наран сургуульдаа явахдаа ямар байгууллагын хажуугаар өнгөрөх вэ?
А. Дэлгүүр Б. Цэцэрлэг В. Эмнэлэг

3 Сургуулийн эргэн тойронд зааврын дагуу дараах зүйлсийг зураарай. Зурахдаа зүг чигийн тэмдгийг ашиглаарай.



- Сургуулийн хойд зүгт хөл бөмбөгийн талбай зураарай.
- Сургуулийн баруун урд зүгт мод зураарай.
- Сургуулийн зүүн талд засмал зам зураарай.
- Сургуулийн урд талд орон сууцны байр зураарай.

Дууссан: он сар өдөр цаг



Өөрийн үнэлгээ:



Сурагчийн нэр:

Эхэлсэн: он сар өдөр



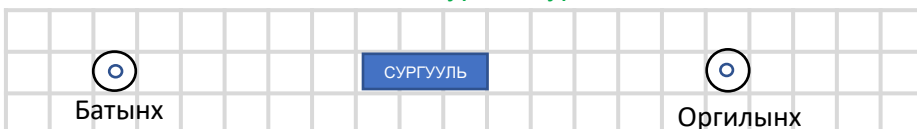
Аливаа зүйлийн план зургийг зурахдаа тухайн зүйлийн бодит хэмжээг маш сайн мэдэж хэрхэн багасгаа тооцоолох хэрэгтэй. Хэрэв энэ тооцоо алдагдвал план зураг буруу болно шүү дээ. Хэрхэн тооцоолж болохыг дараах даалгаврыг гүйцэтгэх явцдаа ойлгоорой.

Даалгавар

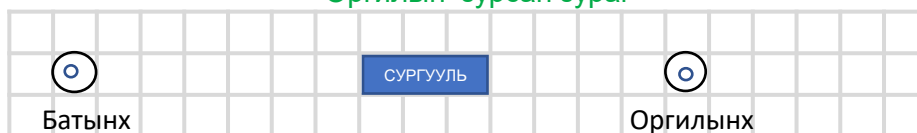
1

Батын гэр сургуулийн баруун талд 600 м зайтай байдаг. Харин Оргилынх яг зүүн талд нь сургуулиас 400 м зайтай байдаг байна. Найзууд хоёр гэрээсээ сургууль хүртлэх замын план зургийг зуржээ. Хүүхдүүдийн зурсан зургийг ажиглаад доорх өгүүлбэрүүдийн **ҮНЭН** **ХУДАЛ** болохыг тодорхойлоорой.

Батын зурсан зураг



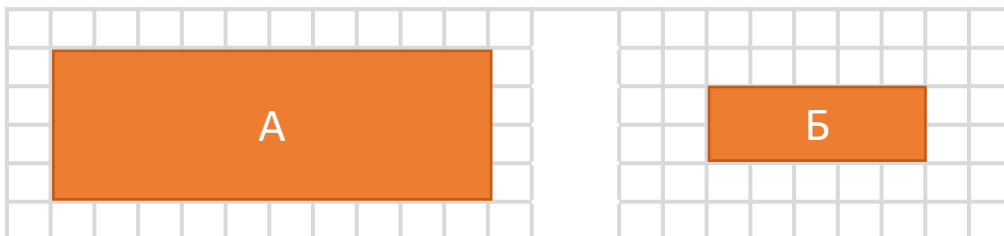
Оргилын зурсан зураг



- a. Бат, сургууль ба айлуудын хоорондох зайг зөв тооцоолж зурсан байна.
- b. Оргил, сургууль ба айлуудын хоорондох зайг зөв тооцоолж зурсан байна.
- c. Дөрвөлжин дэвтрийн 1 нүдний зайнд бодит хэмжээний 100 м-ийн хэмжээг багтааж зурсан байна.
- d. Дөрвөлжин дэвтрийн 2 нүдний зайнд бодит хэмжээний 100 м-ийн хэмжээг багтааж зурсан байна.

2

Бат өөрийн сургуулийнхаа план зургийг зурах даалгавар авчээ. Батын сургууль тэгш өнцөгт хэлбэртэй бөгөөд урт, өргөнийг алхаж хэмжихэд өргөн нь **40** алхам, урт нь **100** алхам байжээ. Бат план зургаа хоёр янзаар зурсан байна. Батын зурсан зургийг ажиглаад бодит хэмжээг хэрхэн багасгасан болохыг ажиглаад өгүүлбэрийн дутуу үгийг нөхөж бичээрэй.



- a) А зургийг зурахдаа дэвтрийн 1 нүдний зайг өөрийн алхамтай тэнцүү байхаар тооцоолон зуржээ.
- b) Б зургийг зурахдаа дэвтрийн 1 нүдний зайг өөрийн алхамтай тэнцүү байхаар тооцоолон зуржээ.

Дууссан: он сар өдөр цаг



Өөрийн үнэлгээ:



Сурагчийн нэр:

Эхэлсэн: он сар өдөр цаг



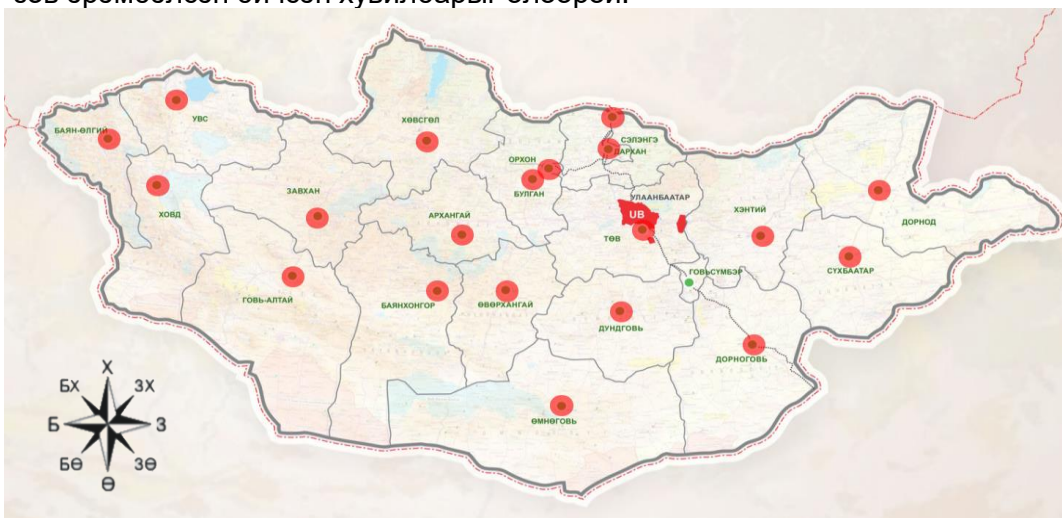
Бид аялалд гарахдаа зорьж байгаа газрынхаа хол ойрыг сайн тооцоолох хэрэгтэй байдаг. Ингэхийн тулд газрын зургийг ашиглан хол ойр зайг хэрхэн мэдэж болохыг дараах дасгалын явцад ойлгож аваарай.

Даалгавар

1

Батынх зуны амралтаараа гэр бүлээрээ аялжээ. Тэд **УБ → Өвөрхангай → Архангай → Говь-Алтай → Увс** гэсэн маршрутаар явсаар зорьсон газраа хүрчээ. Явж байхдаа аймгуудын төвөөр заавал дайран өнгөрч байлаа.

Аймгийн төвүүдийн хоорондох зайг шугам ашиглан хэмжээд багаас нь их рүү нь зөв эрэмбэлсэн бичсэн хувилбарыг олоорой.

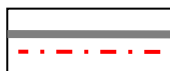


- A. УБ–Өвөрхангай , Өвөрхангай – Архангай , Говь-Алтай – Увс , Архангай – Говь-Алтай
- B. Өвөрхангай – Архангай , Говь-Алтай – Увс , Архангай – Говь-Алтай УБ–Өвөрхангай
- C. Өвөрхангай – Архангай , УБ–Өвөрхангай , Архангай – Говь-Алтай Говь-Алтай – Увс


2

Дээрх газрын зургийг ажиглаад дараах таних тэмдгүүд юуг илэрхийлж байгааг нөхөж бичээрэй.

Таних тэмдэг :



.....



.....



.....

.....

3

Булган аймагтай хамгийн ойрхон буюу хамгийн хол аймгийг нэрлээрэй.

Хамгийн ойрхон аймаг —

Хамгийн хол аймаг —

Дууссан: он сар өдөр цаг



Өөрийн үнэлгээ:





Сурагчийн нэр:

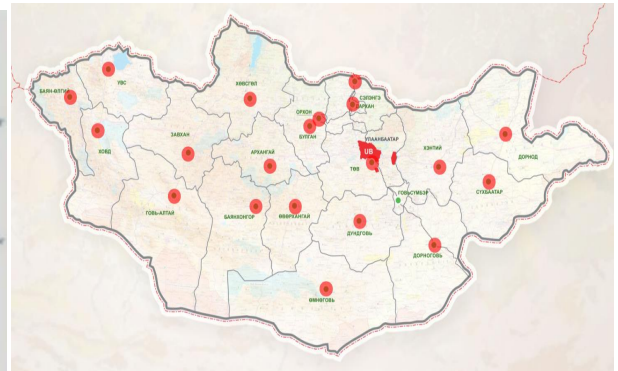
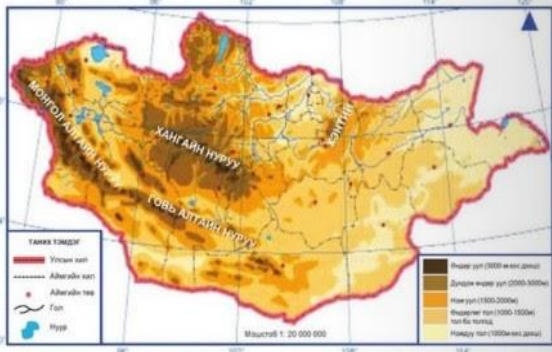
Эхэлсэн: он сар өдөр



Газрын зургийг олон янзаар ашигладаг. Үүнээс өндөр уулс ихтэй газар нутгийг тал хээр нутгаас хэрхэн ялган тэмдэглэдэг болохыг дараах зургаас ажиглаж мэдье. Танай нутгийг газрын зурагт ямар өнгөөр илэрхийлсэн байна вэ? Сайн ажиглаад дараах даалгаврыг гүйцэтгээрэй.

Даалгавар

1 Дараах хоёр газрын зургийг харьцуулан ажиглаад дараах асуултанд хариулан бичээрэй.



a) Өөрийн оршин сууж байгаа аймгийнхаа газар нутгийг ямар өнгөөр илэрхийлсэн байгааг ажиглаад тохирох өнгүүдийг дугуйлаарай.



b) Монгол орны газарзүйн зургийг сайтар ажиглаад дараах өгүүлбэрийн утгыг гүйцээн бичээрэй .

- Манай орны хэсгээр гадарга зонхилж газарзүйн зурагт өнгөөр тэмдэглэгдсэн байна.
- Манай орны хэсгээр гадарга зонхилж газарзүйн зурагт өнгөөр тэмдэглэгдсэн байна.

2 Дараах газар нутгийн хэмжээг уншиж танилцаад газарзүйн зурагт ямар өнгөөр тэмдэглэх вэ? Номныхоо 58-р хуудасны газрын зургийг ажиглаад тохирох өнгөөр дөрвөлжинг будаарай.

- a) Алтай нурууны ноён оргил Хүйтний оргил далайн түвшнээс дээш 4374 м өндөр өндөрт оршдог
- b) Мэнэнгийн тал нь далайн түвшнээс дээш 600 м өндөрт оршдог.
- c) Хэнтийн нурууны хамгийн өндөр цэг болох Асралт хайрхан уул нь далайн түвшнээс дээш 2799 м-т оршдог.
- d) Дархадын хотгор нь Хөвсгөл аймагт оршдог ба далайн түвшнээс дээш 1600 м өндөрт оршдог.

Дууссан: он сар өдөр цаг



Өөрийн үнэлгээ:

